

CENTRO EDUCATIVO SAN JOSÉ

C/ José Ant. Salcedo No. 7 - Tel. (809) 579-2371

Montecristi, República Dominicana

1941-2020



AÑO ESCOLAR 2019-2020

Estimados Padres, Madres y/o Tutores.

Esta Comunidad Educativa tomando en cuenta la situación mundial y asumiendo las disposiciones emitidas por el Excelentísimo Señor Presidente de la República Lic. Danilo Medina, hemos diseñado este material de apoyo a sus hijos/as, donde se les proporciona algunas actividades que pueden ayudar para reforzar el aprendizaje desde sus hogares.

Esta temática nos ayuda estar al día en los diversos contenidos, por lo que le solicitamos que puedan acompañar a sus hijos/as en estas actividades para el reforzamiento del área.



CENTRO EDUCATIVO SAN JOSÉ

C/ José Ant. Salcedo No. 7 - Tel. (809) 579-2371

Montecristi, República Dominicana

1941-2020



AÑO ESCOLAR 2019-2020

Resuelve los siguientes problemas y luego marca la respuesta correcta

1.- En un zoológico hay 2,500 aves de diferentes tipos, si cuento cada una de sus patas, ¿Cuántas patas habrá?

- A) 267
- B) 500
- C) 5,000
- D) 920

2.- En una caja de colores caben 24 unidades, si en la tienda hay 9 cajas. ¿Cuántas cajas habrá?


- A) 216
- B) 4,577
- C) 609
- D) 860

3.- En un estacionamiento hay 500 carro, si cada carro tiene 4 llantas. ¿Cuántas llantas habrá??

- A) 3,030
- B) 2,500
- C) 256
- D) 2,000

4.- En una competencia de bicicletas donde participan 10 competidores. Juan llevo en octavo lugar, ¿Cuántos competidores llegaron antes que Juan?

- A) 1
- B) 7
- C) 8
- D) 5



CENTRO EDUCATIVO SAN JOSÉ

C/ José Ant. Salcedo No. 7 - Tel. (809) 579-2371

Montecristi, República Dominicana

1941-2020



AÑO ESCOLAR 2019-2020

5.- Si un paquete de pan cuesta 48 pesos. ¿Cuánto tengo de pagar si compro 100 paquete de pan?

- A) 400
- B) 120
- C) 900
- D) 4,800

6.- La madre de Antonio va de compra a una tienda, ella tiene 2,600 pesos si gasta 1,700 pesos. ¿Qué cantidad de dinero le queda?

- A) 650
- B) 220
- C) 900
- D) 1,000

7.- María compró un paquete de revista que le costó \$15,235 pesos, y un libro de cuento que le costó 1,425 pesos. ¿Cuántos pesos gastó María en total?


- A) 2,000
- B) 3,256
- C) 1,890
- D) 16,660

8.- El Sr. Rodríguez salió de viaje con 2,565 pesos. Gasta en la comida y gasolina 1,223 pesos. ¿Cuánto dinero le queda?

- A) 1,342
- B) 259
- C) 2600
- D) 315

9.- Un comerciante compra una lámpara por 2,740 pesos y la vende por 3,970 pesos. ¿Cuál es la ganancia?

- A) 2900
- B) 568
- C) 1,230
- D) 369



CENTRO EDUCATIVO SAN JOSÉ

C/ José Ant. Salcedo No. 7 - Tel. (809) 579-2371

Montecristi, República Dominicana

1941-2020



AÑO ESCOLAR 2019-2020

10.- Un ganadero tenía 10,000 vacas y vendió 5,000 vacas. Luego compro 3,000 vacas mas ¿Cuántas vacas le quedan?

- A) 6,000
- B) 8,000
- C) 500
- D) 3,600

11.- Se han criado 25,214 trucha en un pozo de mi casa y se han sacado 3,498 truchas para repoblar el río. ¿Cuántas truchas quedan en mi casa?

- A) 3,549
- B) 21,716
- C) 423
- D) 978

12.- Entre dos campos hay 5,768 girasoles, si el primero tiene 3,144 ¿En cuántos girasoles supera el segundo campo al primero?


- A) 5,145
- B) 645
- C) 2,624
- D) 412

13.- En una tienda de muebles han puesto rebajas. Un sofá costaba antes. Un sillón costaba antes 2,750 pesos y ahora cuesta 1,340. ¿Cuánto pesos menos ahora cuesta el sofá?

- A) 1,410
- B) 2,300
- C) 430
- D) 128

14.- Juan el conserje del colegio tiene una caja con 905 puntas. De ellas 389 son largas y el resto cortas. ¿Cuántas puntas cortas tiene?

- A) 385
- B) 516
- C) 320



CENTRO EDUCATIVO SAN JOSÉ

C/ José Ant. Salcedo No. 7 - Tel. (809) 579-2371

Montecristi, República Dominicana

1941-2020



AÑO ESCOLAR 2019-2020

D) 4,670

15.- Una comerciante tenía 138 camisa en su tienda. Ha vendido 113 camisa. El resto la coloca en 5 cajones iguales. ¿Cuántas camisa colocara en cada cajón?

- A) 46
- B) 69
- C) 5
- D) 10

16.- Un corredor quería recorrer 42 kilómetro. Si ha recorrido 33 kilómetro. ¿cuántos kilometro le faltan por recorrer aun?


- A) 9
- B) 10
- C) 25
- D) 30

17.- Durante las elecciones municipales en Montecristi votan 59,877 personas. Si de ellas 25,879 son mujeres. ¿Cuántos hombres votaron?

- A) 22,544
- B) 33,500
- C) 33,998
- D) 12,677

18.- En la semana ecológica del colegio san José se recolectaron 14,230 kilos de papel para reciclar. Si aún queda por reciclar 2,120 kilos. ¿Cuántos kilos ya se reciclaron?

- A) 3,900
- B) 12,110
- C) 1,500
- D) 930



CENTRO EDUCATIVO SAN JOSÉ

C/ José Ant. Salcedo No. 7 - Tel. (809) 579-2371

Montecristi, República Dominicana

1941-2020



AÑO ESCOLAR 2019-2020

19.- En el proyecto de clara se sembró 10, 500 hectáreas de yuca, 42,634 hectárea de plátano y 2,569 hectárea de guineos. ¿cuántas hectáreas se sembraron en total?

- A) 55,703
- B) 5000
- C) 3500
- D) 542

20.- ¿Qué número continua después de: 29,999?


- A) 19000
- B) 30,000
- C) 5600
- D) 8000

21.- ¿Cuál es el patrón que sigue? 12,000____, _____4,000 ____

- A) 8,000-6,000-4,000-2,000
- B) 4,000-2,000-3,000-1,000
- C) 15,000-13,000-14,000
- D) 15,000-14,000-12,000-10,000

Une con una línea cada multiplicación con su producto.

Multiplicación	producto
9x9	49
5x4	12
3x4	20
2x6	81
7x7	12
6x5	64
8x8	30
4x4	16



CENTRO EDUCATIVO SAN JOSÉ

C/ José Ant. Salcedo No. 7 - Tel. (809) 579-2371

Montecristi, República Dominicana

1941-2020



AÑO ESCOLAR 2019-2020

6x3

80

8x10

18

Encierra en un círculo la respuesta correcta

1) ¿Cuántas unidades tiene una decena?

A) 1 unidad

B) 10 unidades

C) 100 unidades

D) 1000 unidades

2) ¿Qué lugar posicional ocupa el número 5 en la cantidad 356?

A) Unidades

B) Decenas

C) Centenas

D) Unidad de millar

3) La forma desarrollada de 45 es

A) $40 + 5$

B) $400 + 5$

C) $4 + 5$

D) $400 + 5 + 5$

4) En los siguientes dígitos cual es mayor 5, 6, 9, 15


A) 15

B) 6

C) 5

D) 9

5) Continúa el patrón numérico 2, 4, 6, 8, 10, 12



CENTRO EDUCATIVO SAN JOSÉ

C/ José Ant. Salcedo No. 7 - Tel. (809) 579-2371

Montecristi, República Dominicana

1941-2020



AÑO ESCOLAR 2019-2020

A) 20, 50, 100

B) 14, 16, 18

C) 30, 35, 40

D) 3, 6, 9, 12

6) De los siguientes signos cual indica suma

A) -

B) +

C) X

D) >

7) De estos signos cual indica multiplicación

A) +

B) -

C) X

D) %


8) ¿Cómo se expresa como suma repetida 4×5 ?

A) $5+5+5+5$

B) $4+4+4+4$

C) $5+5$

D) $4+4$



CENTRO EDUCATIVO SAN JOSÉ

C/ José Ant. Salcedo No. 7 - Tel. (809) 579-2371

Montecristi, República Dominicana

1941-2020



AÑO ESCOLAR 2019-2020

RESUELVE

143	422	835	3,483	7,377	9,228
<u>+ 232</u>	+ <u>512</u>	+ <u>424</u>	<u>+ 8,745</u>	<u>+ 6,548</u>	<u>+ 2,825</u>

854	925	534	748	6,255	9,612
<u>- 142</u>	<u>- 411</u>	<u>- 423</u>	<u>- 584</u>	<u>- 3,825</u>	<u>- 6,450</u>

234	567	124	5,300	2,100	985
x2	x3	x2	x5	x7	x3
_____	_____	_____	_____	_____	_____

Completa los números siguiendo el patrón.

a) 25, 30, 35, _____, _____, _____, _____, _____, _____

b) 100, 200, 300, _____, _____, _____, _____, _____

c) 550, 600, 650, _____, _____, _____, _____, _____

d) 20, 30, 40, _____, _____, _____, _____, _____, _____



CENTRO EDUCATIVO SAN JOSÉ

C/ José Ant. Salcedo No. 7 - Tel. (809) 579-2371

Montecristi, República Dominicana

1941-2020



AÑO ESCOLAR 2019-2020

Escribe <, > o = según corresponda

$25 \underline{\quad} 30$

$60 \underline{\quad} 28$

$100 \underline{\quad} 50$

$200 \underline{\quad} 150$

$25 \underline{\quad} 25$

$10+20 \underline{\quad} 30$

3) Si María fue al supermercado y compro 20 pesos de naranjas, 10 pesos de ajíes ¿Cuántos pesos gastó María?

4) Compré 10 guineos para repartirlos entre dos niños ¿Cuántos guineos recibió cada niño?


Realiza las siguientes divisiones como una resta repetida:

A) $20 \div 5 =$

B) $40 \div 10 =$

C) $48 \div 8 =$

D) $35 \div 7 =$



CENTRO EDUCATIVO SAN JOSÉ

C/ José Ant. Salcedo No. 7 - Tel. (809) 579-2371

Montecristi, República Dominicana

1941-2020



AÑO ESCOLAR 2019-2020

Representa en una recta numérica las siguientes divisiones, dando saltos hacia atrás hasta llegar a cero.

A) $16 \div 2 =$

B) $50 \div 5 =$

C) $48 \div 8 =$

D) $36 \div 4 =$

E) $63 \div 7 =$

F) $42 \div 6 =$

Efectúa las siguientes divisiones y verifica tus resultados con la multiplicación relacionada.

División

multiplicación relacionada

A) $18 \div 2 =$

B) $32 \div 8 =$

C) $27 \div 9 =$

D) $36 \div 6 =$

E) $28 \div 4 =$

F) $42 \div 7 =$

Escribe en palabras las siguientes cifras.

a) 25,600 _____

b) 3,850 _____


c) 572 _____

d) 1,936 _____

e) 5,700 _____

f) 68,945 _____

g) 34,276 _____



CENTRO EDUCATIVO SAN JOSÉ

C/ José Ant. Salcedo No. 7 - Tel. (809) 579-2371


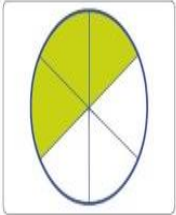
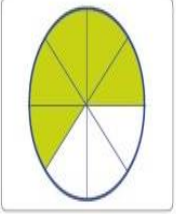



Montecristi, República Dominicana


1941-2020



AÑO ESCOLAR 2019-2020

Marca con una x la fracción que representa la parte sombreada en la figura.

<p>a.</p>  <p><input type="checkbox"/> $\frac{1}{2}$ <input type="checkbox"/> $\frac{2}{3}$ <input type="checkbox"/> $\frac{2}{8}$ <input type="checkbox"/> $\frac{2}{6}$</p>	<p>b.</p>  <p><input type="checkbox"/> $\frac{3}{6}$ <input type="checkbox"/> $\frac{2}{4}$ <input type="checkbox"/> $\frac{2}{6}$ <input type="checkbox"/> $\frac{3}{5}$</p>
<p>c.</p>  <p><input type="checkbox"/> $\frac{5}{8}$ <input type="checkbox"/> $\frac{4}{8}$ <input type="checkbox"/> $\frac{5}{9}$ <input type="checkbox"/> $\frac{6}{8}$</p>	<p>d.</p>  <p><input type="checkbox"/> $\frac{1}{3}$ <input type="checkbox"/> $\frac{2}{3}$ <input type="checkbox"/> $\frac{3}{2}$ <input type="checkbox"/> $\frac{2}{4}$</p>
<p>e.</p>  <p><input type="checkbox"/> $\frac{3}{6}$ <input type="checkbox"/> $\frac{3}{9}$ <input type="checkbox"/> $\frac{2}{3}$ <input type="checkbox"/> $\frac{9}{3}$</p>	<p>f.</p>  <p><input type="checkbox"/> $\frac{6}{12}$ <input type="checkbox"/> $\frac{9}{18}$ <input type="checkbox"/> $\frac{6}{16}$ <input type="checkbox"/> $\frac{8}{16}$</p>



CENTRO EDUCATIVO SAN JOSÉ

C/ José Ant. Salcedo No. 7 - Tel. (809) 579-2371

Montecristi, República Dominicana

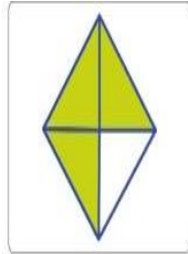
1941-2020



AÑO ESCOLAR 2019-2020

Marca con una x la fracción que representa la parte sombreada en la figura.

a.



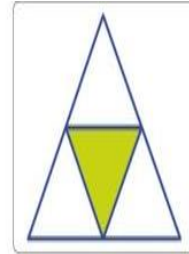
$$\frac{3}{4}$$

$$\frac{2}{3}$$

$$\frac{4}{3}$$

$$\frac{3}{2}$$

b.



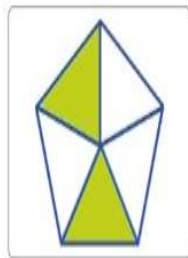
$$\frac{4}{1}$$

$$\frac{3}{4}$$

$$\frac{1}{3}$$

$$\frac{1}{4}$$

c.



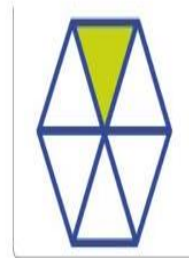
$$\frac{4}{5}$$

$$\frac{2}{5}$$

$$\frac{5}{2}$$

$$\frac{3}{5}$$

d.



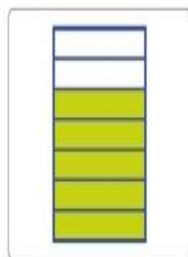
$$\frac{6}{1}$$

$$\frac{3}{2}$$

$$\frac{2}{3}$$

$$\frac{1}{6}$$

e.



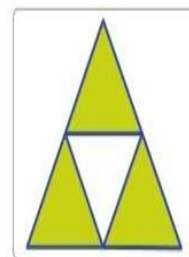
$$\frac{5}{9}$$

$$\frac{5}{7}$$

$$\frac{4}{6}$$

$$\frac{7}{5}$$

f.




$$\frac{1}{4}$$

$$\frac{4}{3}$$

$$\frac{3}{4}$$

$$\frac{2}{4}$$



CENTRO EDUCATIVO SAN JOSÉ

C/ José Ant. Salcedo No. 7 - Tel. (809) 579-2371

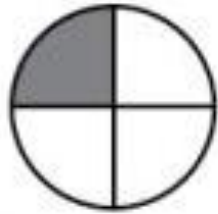
Montecristi, República Dominicana

1941-2020



AÑO ESCOLAR 2019-2020

¿Qué parte del entero está pintada de gris? Sigue el ejemplo.




$$\frac{1}{4}$$



—



—



—



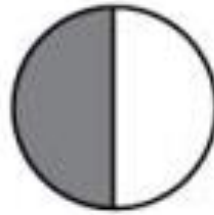
—



—



—




—



—



—



CENTRO EDUCATIVO SAN JOSÉ

C/ José Ant. Salcedo No. 7 - Tel. (809) 579-2371

Montecristi, República Dominicana

1941-2020



AÑO ESCOLAR 2019-2020

Lea y escriba la hora en cada reloj.




























CENTRO EDUCATIVO SAN JOSÉ

C/ José Ant. Salcedo No. 7 - Tel. (809) 579-2371

Montecristi, República Dominicana

1941-2020



AÑO ESCOLAR 2019-2020

Aparea con la fracción que le corresponda.



$$\frac{4}{6}$$


$$\frac{4}{7}$$

$$\frac{5}{7}$$

$$\frac{4}{8}$$

$$\frac{5}{8}$$

$$\frac{5}{6}$$



CENTRO EDUCATIVO SAN JOSÉ

C/ José Ant. Salcedo No. 7 - Tel. (809) 579-2371


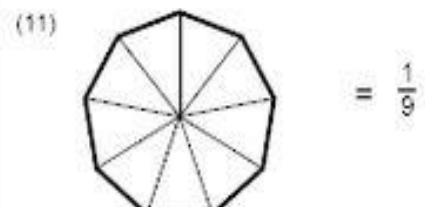
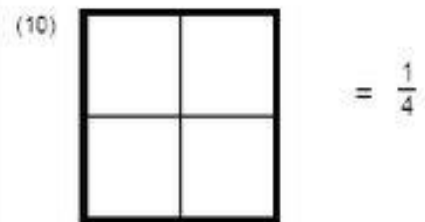
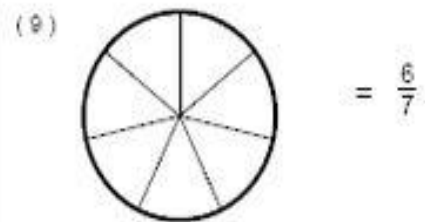

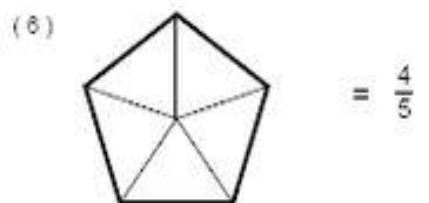
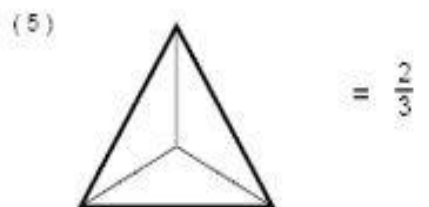
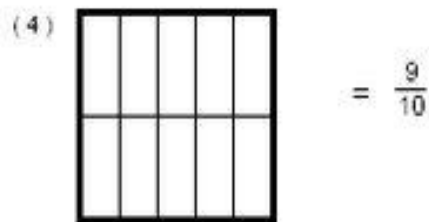
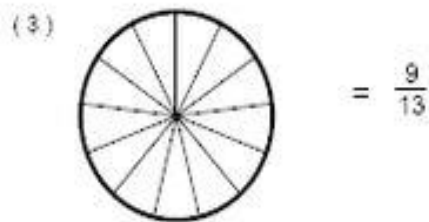

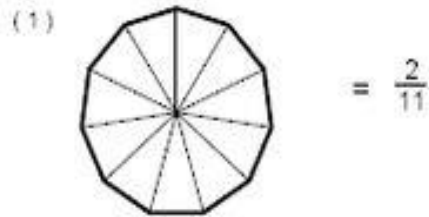
Montecristi, República Dominicana

1941-2020



AÑO ESCOLAR 2019-2020

Pinta las partes que representa el numerador en cada caso. Escribe cómo se leen.





CENTRO EDUCATIVO SAN JOSÉ

C/ José Ant. Salcedo No. 7 - Tel. (809) 579-2371

Montecristi, República Dominicana

1941-2020



AÑO ESCOLAR 2019-2020

Completa la tabla de multiplicar.

x	0	1	2	3	4	5	6	7	8	9	10
2							12				
3				9							
4										36	
5					20						
6						30					
7											70
8								56			
9			18								
10								70			