

CENTRO EDUCATIVO SAN JOSÉ

C/ José Ant. Salcedo No. 7 - Tel. (809) 579-2371

Montecristi, República Dominicana

1941-2020




AÑO ESCOLAR 2019-2020

Estimados Padres, Madres y/o Tutores.

Esta Comunidad Educativa tomando en cuenta la situación mundial y asumiendo las disposiciones emitidas por el Excelentísimo Señor Presidente de la República Lic. Danilo Medina, hemos diseñado este material de apoyo a sus hijos/as, donde se les proporciona algunas actividades que pueden ayudar para reforzar el aprendizaje desde sus hogares.

Esta temática nos ayuda estar al día en los diversos contenidos, por lo que les solicitamos que puedan acompañar a sus hijos/as en estas actividades para el reforzamiento del área.



CENTRO EDUCATIVO SAN JOSÉ

C/ José Ant. Salcedo No. 7 - Tel. (809) 579-2371

Montecristi, República Dominicana

1941-2020



AÑO ESCOLAR 2019-2020

5TO GRADO BÁSICA ACTIVIDADES COMPLEMENTARIAS DE MATEMÁTICA PARA LA VIDA

I. Escribe el decimal que corresponde a las expresiones:

- 1) Veintiséis mil enteros, cinco milésimas.
- 2) Ochenta y seis mil quinientos milésimas.
- 3) Ciento cincuenta enteros y treinta y dos décimas.
- 4) Noventa y seis centésimas.


II. Escribe cómo se lee cada decimal:

- 1) 120.75=
- 2) 4350.002=
- 3) 671.030=
- 4) 3951.740=

III. Realiza las siguientes multiplicaciones con números decimales


- 1) $6783.05 \times 4.35 =$
- 2) $168.7 \times 7.3 =$
- 3) $855.639 \times 0.56 =$
- 4) $93.451 \times 6.42 =$

IV. Señala con una flechita en la regla los siguientes decimales según el ejemplo: 3.4 cm



SEÑALA:

- 5.6 cm
- 0.7 cm
- 1.3 cm



CENTRO EDUCATIVO SAN JOSÉ

C/ José Ant. Salcedo No. 7 - Tel. (809) 579-2371

Montecristi, República Dominicana

1941-2020



AÑO ESCOLAR 2019-2020

V. Escribe $<$ $>$ $=$ para comparar cada par de decimal.

- 1) 0.618 ____ 0.6812
- 2) 4356.96 ____ 4356.964
- 3) 0.400 ____ 0.4
- 4) 37.84 ____ 37.84
- 5) 0.6006 ____ 0.0606

VI. Realiza las siguientes sumas y restas primero estima, luego realizada en forma normal. Luego realízala con una calculadora y compárala con los resultados.

- 1) $96.4 - 23.3 =$
- 2) $6971.72 - 352.84 =$
- 3) $835.7 + 27.3 + 524.4 =$
- 4) $671.72 + 19.182 + 857.06 =$
- 5) $200.01 + 19.65 + 755.4 =$